

Mathe mit Mieze Mia

Mia zählt bis 1000

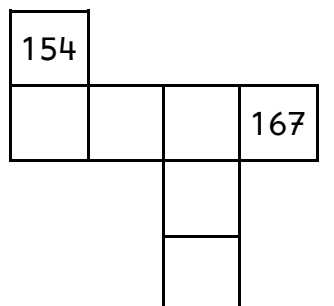
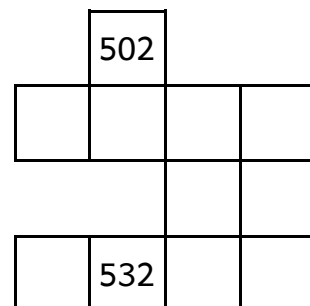
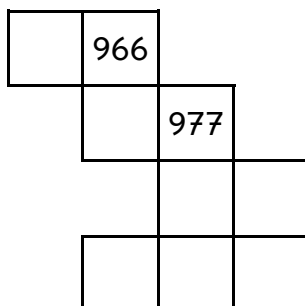
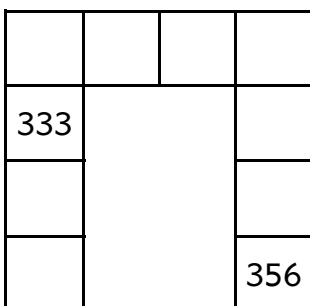
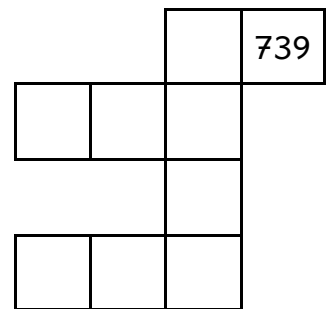
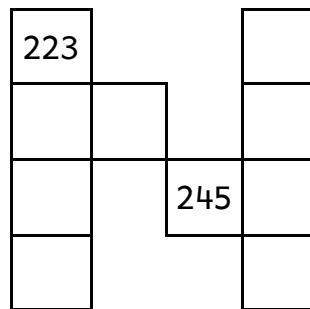
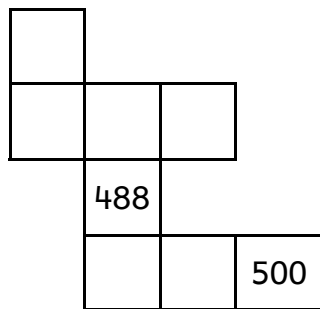

Ein Heft von _____

Hunderterfelder

Diese Stücke sind aus einem Hunderterfeld
Ergänze die fehlenden Zahlen!



8



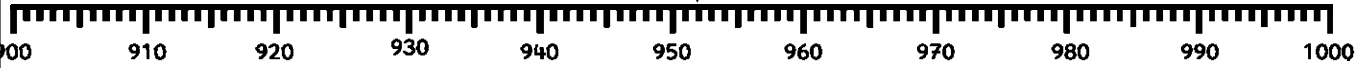
Nachbarzehner



1

Zeige die Zahlen am Zahlenstrahl.
Trage die Nachbarzehner ein.

952 Der nächste Nachbarzehner ist



V	Zahl	N
	371	
	175	
	465	

V	Zahl	N
	240	
	899	
	651	

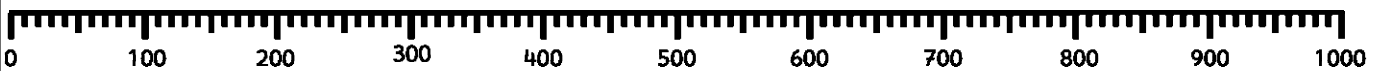
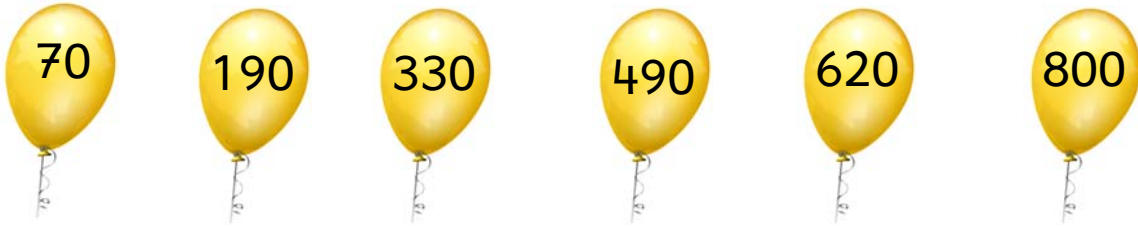
V	Zahl	N
	989	
	788	
	577	

Der Zahlenstrahl bis 1000



9

Verbinde die Ballons mit dem Zahlenstrahl!



Trage die Nachbarhunderter ein!

_____	520	_____	_____	425	_____	_____	837	_____
_____	670	_____	_____	675	_____	_____	721	_____
_____	380	_____	_____	195	_____	_____	512	_____

Eine komische Schrift

Trage die Geheimschrift ein.
Ergänze die fehlenden Angaben.



2

$$3\text{ H} + 2\text{ Z} + 1\text{ E}$$

$$3\text{ H} + 5\text{ Z} + 0\text{ E}$$

$$400 + 60 + 7$$

$$500 + 50 + 5$$

263

603

Der Zahlenstrahl



10

Verbinde die Ballons mit dem Zahlenstrahl!



Trage die Nachbarzehner ein!

_____	452	_____	_____	405	_____	_____	407	_____
_____	437	_____	_____	495	_____	_____	444	_____
_____	491	_____	_____	455	_____	_____	467	_____

Mia zerlegt Zahlen



3

Schreibe auf, welche Zahlen Mia hier zerlegt hat.

$8 H + 5 Z + 3 E = \underline{\hspace{2cm}}$

$7 H + 5 Z + 6 E = \underline{\hspace{2cm}}$

$7 H + 1 Z = \underline{\hspace{2cm}}$

$9 H + 4 E = \underline{\hspace{2cm}}$

$4 Z + 3 E = \underline{\hspace{2cm}}$

$9 H + 9 Z + 9 E = \underline{\hspace{2cm}}$

$4 H + 8 Z = \underline{\hspace{2cm}}$

$9 H + 9 E = \underline{\hspace{2cm}}$

$1 H + 1 Z + 1 E = \underline{\hspace{2cm}}$

$300 + 50 + 9 = \underline{\hspace{2cm}}$

$60 + 7 = \underline{\hspace{2cm}}$

$400 + 90 + 7 = \underline{\hspace{2cm}}$

$800 + 6 = \underline{\hspace{2cm}}$

$600 + 70 = \underline{\hspace{2cm}}$

$900 + 70 + 4 = \underline{\hspace{2cm}}$

$300 + 60 = \underline{\hspace{2cm}}$

$600 + 7 = \underline{\hspace{2cm}}$

$700 + 40 + 9 = \underline{\hspace{2cm}}$

Immer
10 Z sind 1 H



$37 Z = \underline{3 H + 7 Z}$

$81 Z = \underline{\hspace{1cm} H + \hspace{1cm} Z}$

$72 Z = \underline{\hspace{1cm} H + \hspace{1cm} Z}$

$66 Z = \underline{\hspace{1cm} H + \hspace{1cm} Z}$

$56 Z = \underline{\hspace{1cm} H + \hspace{1cm} Z}$

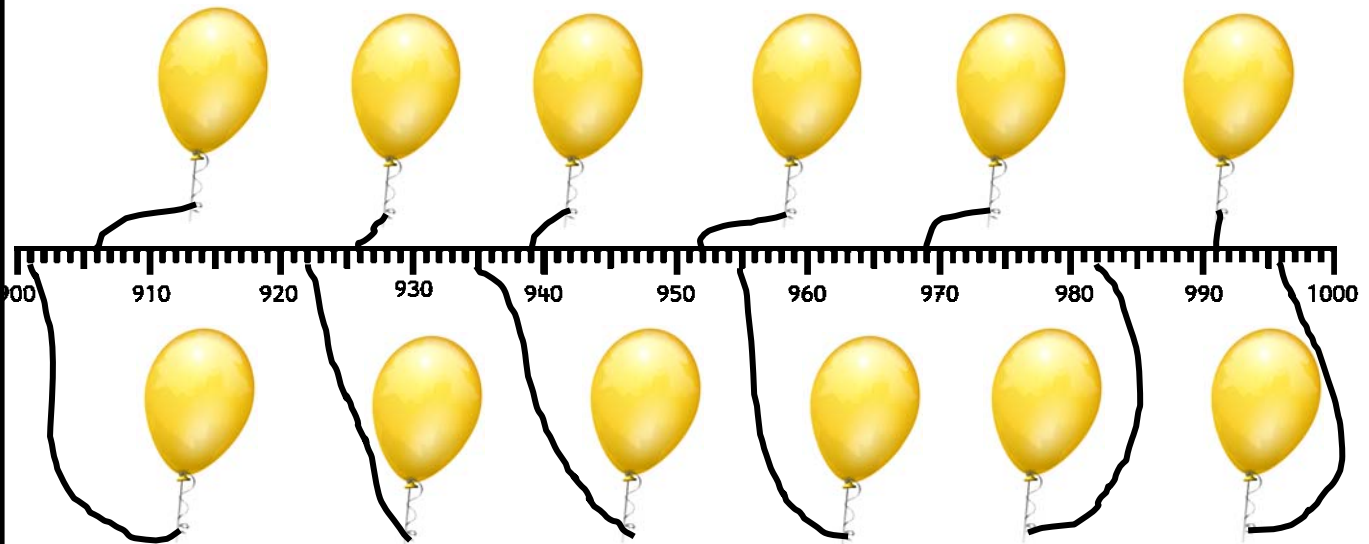
$25 Z = \underline{\hspace{1cm} H + \hspace{1cm} Z}$

Der Zahlenstrahl



11

Trage die Zahlen ein!



Setze die Reihen fort.

915, 920, 925, , , , , , , , 965.

922, 924, 926, , , , , , , , 942.

954, 958, 962, , , , , , , , 994.

Die Stellentafel



4

Trage die Zahlen in die Tafel ein.
Schreibe die Rechnung daneben.

H	Z	E
5	2	3

523

681

814

635

912

578

681

500 + 20 + 3

503

350

035

917

971

719

179

H	Z	E

Größer, kleiner oder gleich?



12

Male immer die größte Zahl farbig aus.

99	734
743	739

522	255
552	525

751	175
715	571

899	988
898	989

636	663
366	363

Male immer die kleinste Zahl farbig aus.

878	788
787	887

132	123
231	312

545	554
455	445

289	298
279	297

105	51
101	501

Ordne die Zahlen. Fange mit der kleinsten Zahl an.

627	430	32	445
526	305		

--	--	--	--	--	--	--	--

Die Stellentafel



5

Lege Zahlen aus den Kärtchen.
Trage sie dann in die Stellentafel ein.
Beginne immer mit der größten Zahl.



H	Z	E

H	Z	E

Größer, kleiner oder gleich?



13

Setze die fehlenden Zeichen ein:
< oder >

234	<input type="text"/>	243
839	<input type="text"/>	839
411	<input type="text"/>	421

899	<input type="text"/>	988
802	<input type="text"/>	820
62	<input type="text"/>	26

331	<input type="text"/>	313
441	<input type="text"/>	414
676	<input type="text"/>	667

Kreise die gesuchten Zahlen ein:

größer als 331		
167	432	297
		922
303	317	
337	530	419

kleiner als 331		
266	621	168
		306
	237	329
929	318	416

größer als 789		
787	791	719
		801
	729	790
792	90	709

Punkte in der Stellentafel



Trage die Zahlen ein.

H	Z	E
••••	••	••

H	Z	E
•••	•••	••••

H	Z	E
•••••	•••	•••

Welche Zahlen kannst du mit 5 Steinen legen? Trage ein!

H	Z	E

H	Z	E

H	Z	E

H	Z	E






H	Z	E

H	Z	E

Ärger mit den Nachbarn



Wie heißen Vorgänger (V) und Nachfolger (N)?



V	Zahl	N
	371	
	175	
	465	

V	Zahl	N
	240	
	899	
	651	

V	Zahl	N
	989	
	788	
	577	

Hunderterfelder



Bei welchen Zahlen stehen die Bilder?
Trage ein!

401								410
		▶▶					🚲	
			🕷️					
				🎧				
	💡					●		
			🏠				🔧	
				🍴				
	⚡							
491								500

- ▶▶ _____
- 🕷️ _____
- 💡 _____
- 📷 _____
- _____
- 🚲 _____
- 🏠 _____
- 🎧 _____
- 🔧 _____
- ⚡ _____

Puh!
Das war anstrengend.
Brauchst du jetzt eine Pause?
Es gibt von mir noch
viele weitere Hefte
mit tollen Aufgaben!
So wirst auch du zur
Mathe-Katze!
Deine Mia

