



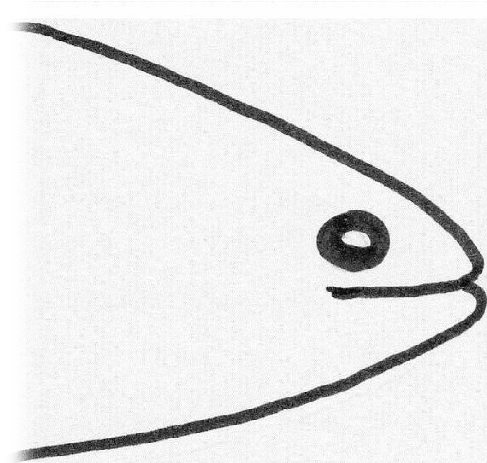
## Maulformen der Fische

Fische können drei verschiedene Maulformen haben.

Gib zu jeder Maulform mindestens zwei Fische an. Schreibe dazu, welcher Ernährungstyp sie sind, was sie fressen und in welchem Bereich im Becken sie sich hauptsächlich aufhalten.

Achtung, zu einer Maulform gibt es nur ein Beispiel. Vielleicht findest du ein weiteres.


### **Endständig:**



Diese Maulform wird  
als endständig  
bezeichnet

<b>1. Fisch:</b>
Name:
Nahrung:
Aufenthalt im Becken:
<b>2. Fisch:</b>
Name:
Nahrung:
Aufenthalt im Becken:


**Oberständig:**



Diese Maulform wird  
als oberständig  
bezeichnet

<b>1. Fisch:</b>
Name:
Nahrung:
Aufenthalt im Becken:
<b>2. Fisch:</b>
Name:
Nahrung:
Aufenthalt im Becken:

**Unterständig:**



Diese Maulform wird  
als unterständig  
bezeichnet

<b>1. Fisch:</b>
Name:
Nahrung:
Aufenthalt im Becken:
<b>2. Fisch:</b>
Name:
Nahrung:
Aufenthalt im Becken: