

Mathe mit Mieze Mia

Mia geht fischen


Ein Heft von _____

Tiere wiegen




6

Wie viel wiegen die Kuscheltiere?
Schreibe das Gewicht unter die Waage!



Aquarium Nr. _____



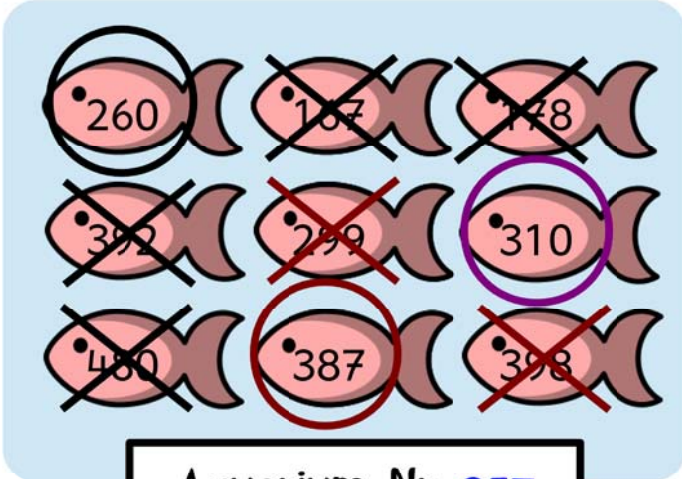
Aquarium Nr. _____

Bei den Fischen



1

Mia besucht das Aquarium.



Aquarium Nr. 957

$$260 + 387 + 310 = 957$$

Bei den Nummern der Fischbecken fällt ihr etwas auf:

Ich wähle einen ersten Fisch aus. Ich streiche alle Fische durch, die in der gleichen Reihe und der gleichen Spalte sind.

Ich wähle einen zweiten Fisch aus. Ich streiche alle Fische durch, die in der gleichen Reihe und der gleichen Spalte sind.

Nun bleibt ein dritter Fisch übrig.

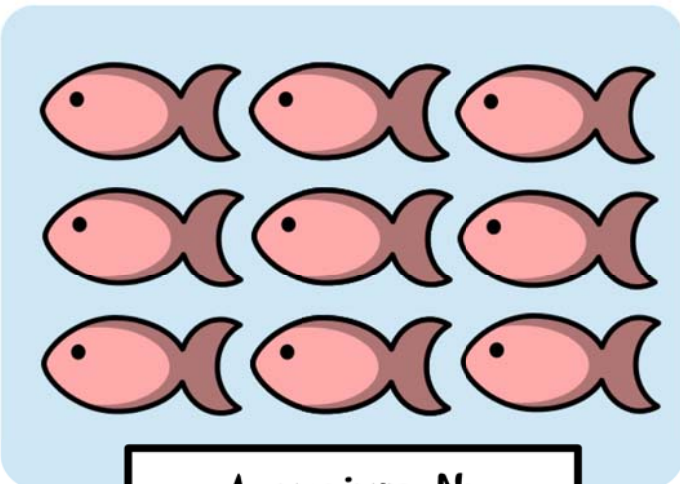
Ich addiere die drei Fische. Ich erhalte als Summe die Nummer des Fischbeckens.

Gewichte ergänzen




7

Male die fehlenden Gewichtsstücke dazu!



Aquarium Nr.




Aquarium Nr.

Becken ohne Nummern




2

Diese Becken haben noch keine Nummer erhalten.
Trage die passende Nummer ein.
Beachte dabei die Regel, die Mia dir auf Seite 1 erklärt hat!



Aquarium Nr.




Aquarium Nr.

Das passt zusammen!




8

Immer drei Zeiten gehören zusammen.
Male sie in der gleichen Farbe aus.



Aquarium Nr.




Aquarium Nr.




Becken ohne Nummern

3

Diese Becken haben noch keine Nummer erhalten.
Trage die passende Nummer ein.
Beachte dabei die Regel, die Mia dir auf Seite 1 erklärt hat!



Aquarium Nr.




Aquarium Nr.




Wie die Zeit vergeht ...

9

Wie viel Zeit ist zwischen den beiden Uhren vergangen?
Tipp: Eine Stunde hat 60 Minuten!



Aquarium Nr.




Aquarium Nr.

Was ist gleich?




4

Immer drei Kärtchen zeigen die gleiche Länge.



Aquarium Nr.




Aquarium Nr.

Was wäre wenn ... ?




10

Wir haben nun 16:45 Uhr.
Doch wie spät war es ...



Aquarium Nr.




Aquarium Nr.




Ein Gewicht

5

Immer drei Kästchen gehören zusammen.
Male sie in der gleichen Farbe aus!



Aquarium Nr.




Aquarium Nr.

Puh!

Das war anstrengend.
Brauchst du jetzt eine Pause?
Es gibt von mir noch
viele weitere Hefte
mit tollen Aufgaben!
So wirst auch du zur
Mathe-Katze!

Deine Mia

Z
Z
Z



OPEN EDUCATIONAL RESOURCES

